

## Titre de la fiche : La carte politique de l'Europe. La Roumanie dans l'Europe

### Fiche Professeur

**Discipline : Géographie**

**Classe : XIIème**

**Auteur(s) : DANILA Aurelia, Colegiul National Mircea cel Batran - Constanta**

**Thème (et sous-thème) du programme roumain :** Harta politica a Europei. Romania , stat al Europei

**Ressources documentaires (et références) :**

- <http://www.europe.learningtogether.net>

- *Géographie, L'Europe, La France, 1<sup>re</sup> L, ES,S* – sous la direction d'Annette Ciattoni, Hatier, pages 24-35

- Geografie – clasa a XII-a , Editura Humanitas, pages 21-23

**Objectifs :**

- repérer sur la carte les Etats de l'Europe
- situer dans l'espace
- utiliser le vocabulaire spécifique

**Tâches :**

- Compléter un texte/ une carte / un tableau
- Localiser des données géographiques sur un fond de carte vierge
- Nommer les pays indiqués par les chiffres et les plages de couleur
- Lire et analyser une carte / un texte

**Termes-Notions à expliquer :**

Français	Roumain	Explication
Nation	Natiune	Communauté d'hommes ayant le sentiment d'une appartenance commune, reposant sur des facteurs culturels et politiques
Intégration européenne	Integrare europeana	Processus d'harmonisation économique et politique mené par les Etats européens dans le cadre de l'UE
Espace Schengen	Spatiu Schengen	Espace de libre circulation des hommes au sein de l'Union européenne
OTAN	NATO	Organisation du Traité de l'Atlantique Nord : alliance militaire créée en 1949 pendant la guerre froide, qui réunit, sous l'égide des Etats-Unis, des Etats européens et le Canada
CEI	CEI	Communauté des Etats Indépendants. Créée en 1991 pour faciliter la désintégration de l'URSS, elle regroupe douze Etats issus de l'ex-URSS.

### Mots clés :

Etat, Etat-nation, Etat unitaire, fédération, république, monarchie, rideau de fer, frontières, libre-échange.

### Durée et déroulement de la séance : 2 heures

#### Mise en route :

Distribuer le texte à trous : L'Etat

Pistes de correction:

Un Etat est un territoire limité par des **frontières**. Il possède une **capitale** ou siège le gouvernement et le chef de l'Etat. Il a son **drapeau** avec ses couleurs originales, son **hymne** national avec sa musique et ses paroles. Il siège à l'ONU , c'est-à-dire à l'**Organisation** des **Nations Unies**. Tous les habitants de ce territoire obéissent aux mêmes **lois**.

#### Activité 1 :

Montrer la carte politique de l'Europe : Elle est divisée en 47 Etats. La chute du bloc soviétique, en 1991, a entraîné une multiplication des frontières.

Distribuer aux élèves le tableau à compléter des 15 Etats les plus récents de l'Europe

Région	Etat	Capitale
L'ex Union Soviétique ( 7 pays)	Russie	Moscou
	Ukraine	Kiev
	Moldavie	Chisinau
	Biélorussie	Minsk
	Estonie	Tallin
	Letonie	Riga
	Lituanie	Vilnius
L'ex Yougoslavie ( 6 pays)	Slovénie	Ljubljana
	Croatie	Zagreb
	Monténégro	Podgorica
	Serbie	Belgrade
	Macédoine	Skopje
	Bosnie-Herzégovine	Sarajevo
L'ex Tchécoslovaquie ( 2 pays)	Tchéquie	Prague
	Slovaquie	Bratislava

Pistes de correction. La mise en commun à l'aide de la carte murale.

### Activité 2 :

Proposer le texte « Frontières européennes, entre coopération et confrontation » à la page 34.

Tracer deux colonnes au tableau noir. Demander aux élèves de les remplir.

Frontières – Zones de coopération	Frontières – Zones de confrontation
franco-belges	hongrois-roumaines
germano-polonaises	hongrois-slovaques
gréco-bulgares	albano-serbes

### Activité 3 :

Faire un remue-méninges sur les types d'Etats. Suivant :

a) Le mode d'organisation intérieure : - Etat unitaire / Etat fédéral

Distribuer la carte muette où il y a 7 pays marqués par des chiffres

Pistes de correction : Allemagne, Autriche, Belgique, Bosnie-Herzégovine, Fédération Russe, Suisse, Espagne. Ce sont les Etats fédéraux de l'Europe.

Mise en commun à l'oral.

b) La forme de gouvernement : République / Monarchie

Distribuer la liste des 10 monarchies de l'Europe et les cartes muettes.

A deux. Demander de les localiser.

Pistes de correction: Norvège, Suède, Danemark, Royaume-Uni, Luxembourg, Pays-Bas, Belgique, Espagne, Monaco, Liechtenstein, ( Vatican )




c) La superficie : Etat vaste, moyen, petit

d) La population : Etat peuplé, moyen, peu peuplé


e) La densité de population : forte, moyenne, faible

Distribuer le tableau statistique des Etats de l'Europe, avec leurs superficies, nombre d'habitants, densité de population.

A deux faire identifier les 5 pays les plus vastes/ petits ; les plus/ moins peuplés ; avec la densité la plus forte/ faible. Observer toujours la place de la Roumanie.

Numéro	Pays (ou territoire)	Densité (hab./km <sup>2</sup> )	Population (hab.)	Superficie (km <sup>2</sup> )
1	 <a href="#">Monaco</a>	16 235	32 796	2,02
2	 <a href="#">Vatican</a>	2 093	921	0,44
3	 <a href="#">Malte</a>	1 247	393 933	316

4	 <a href="#">Saint-Marin</a>	472	28 880	61,2
5	 <a href="#">Pays-Bas</a>	395	16 407 491	41001
6	 <a href="#">Belgique</a>	340	10 364 388	30520
7	 <a href="#">Royaume-Uni</a>	247	60 441 457	244884
8	 <a href="#">Allemagne</a>	231	82 431 390	357 021
9	 <a href="#">Liechtenstein</a>	211	33 717	160
10	 <a href="#">Italie</a>	195	58 751 711	301 230
11	 <a href="#">Suisse</a>	181	7 489 370	41 290
12	 <a href="#">Luxembourg</a>	181	468 571	2 586
13	 <a href="#">Andorre</a>	151	70 549	468
14	 <a href="#">Moldavie</a>	132	4 455 421	33 843
15	 <a href="#">République tchèque</a>	130	10 241 138	78 866
16	 <a href="#">Danemark</a>	126	5 432 335	43 090
17	 <a href="#">Albanie</a>	124	3 563 112	28 748
18	 <a href="#">Pologne</a>	124	38 635 144	312 685
19	 <a href="#">Portugal</a>	118	10 566 212	89 242
20	 <a href="#">France</a>	112	61 399 733	547 800
21	 <a href="#">Slovaquie</a>	111	5 431 363	48 845
22	 <a href="#">Hongrie</a>	108	10 006 835	93 030
23	 <a href="#">Serbie-et-Monténégro</a>	106	10 829 175	102 350
24	 <a href="#">Slovénie</a>	99	2 011 070	20 273
25	 <a href="#">Autriche</a>	98	8 184 691	83 870
26	 <a href="#">Roumanie</a>	94	22 329 977	237 500
27	 <a href="#">Turquie</a>	89	69 660 559	780 580
28	 <a href="#">Espagne</a>	86	43 197 684	504 782
29	 <a href="#">Chypre</a>	84	780 133	9 250
30	 <a href="#">Grèce</a>	81	10 668 354	131 940
31	 <a href="#">Macédoine</a>	81	2 045 262	25 333
32	 <a href="#">Bosnie-Herzégovine</a>	79	4 025 476	51 129
33	 <a href="#">Ukraine</a>	79	47 425 336	603 700
34	 <a href="#">Croatie</a>	78	4 437 460	56 542
35	 <a href="#">Bulgarie</a>	67	7 450 349	110 910
36	 <a href="#">Irlande</a>	60	4 234 925	70 280
37	 <a href="#">Lituanie</a>	55	3 596 617	65 200
38	 <a href="#">Biélorussie</a>	50	10 300 483	207 600
39	 <a href="#">Lettonie</a>	35	2 290 237	64 589
40	 <a href="#">Estonie</a>	29	1 332 893	45 226
41	 <a href="#">Suède</a>	20	9 001 774	449 964
42	 <a href="#">Finlande</a>	15	5 223 442	338 145
43	 <a href="#">Norvège</a>	14	4 593 041	324 219
44	 <a href="#">Russie</a>	8,4	143 420 309	17 075 200

45	 <a href="#">Islande</a>	2,9	296 737	103 000
----	---	-----	---------	---------

Pistes de corrections :

Les plus vastes : Russie, Ukraine, France, Espagne, Suède

Les plus petits : Vatican, Monaco, Saint-Marin, Liechtenstein, Malte

Les plus peuplés : Russie, Allemagne, France, Royaume-Uni, Italie

Les moins peuplés : Vatican, Malte, Monaco, Liechtenstein, Andorre

Les plus densément peuplés : Monaco, Vatican, Malte, Saint-Marin, Pays-Bas

Les moins densément peuplés : Islande, Russie, Norvège, Finlande, Suède

Mise en commun et argumentation à l'oral.

f) La position géographique : Etat maritime, continental, insulaire

Distribuer la carte muette pour localiser les états insulaires.

Pistes de correction : Islande, Irlande, Royaume-Uni, Malte, Chypre

#### **Activite 4 :**

Insister sur la place de la Roumanie, dans les diverses associations au fil des XX-e et XXI-e siècles.

Faire lire les cartes :

„ L'Europe en 1914 „ - page 33

„L'Europe en 1960 „ - page 33

„ Les ensembles géopolitiques en Europe ( 2007 ) - page 32.

#### **Activite 5 :**

Indiquer le site [www.europe.learningtogether.net](http://www.europe.learningtogether.net) pour que les élèves exercent leurs connaissances sur la carte politique de l'Europe d'une manière agréable.

\*Glisser l'étoile à côté du nom de chaque pays vers le centre du pays correspondant.

\*Associer les noms des capitales aux pays correspondants.

#### **Activite 6:**

Demander aux élèves de compléter le tableau d'auto-évaluation.